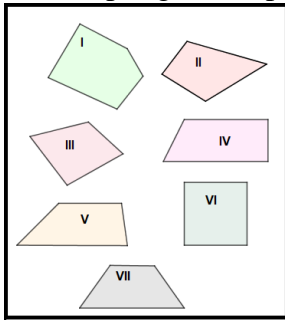
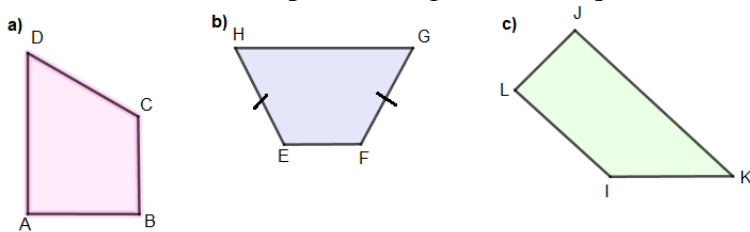


1) Observe os polígonos representados e responda às questões.

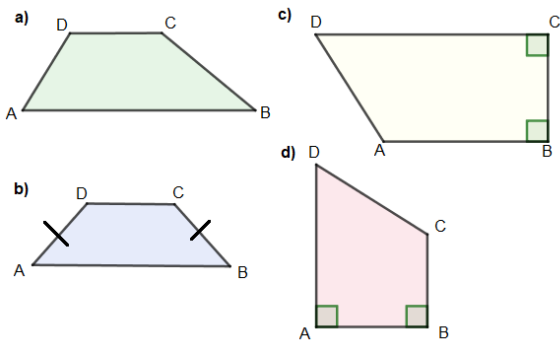


- Quais polígonos são quadriláteros?
- Quais são os trapézios?
- Quais são os paralelogramos?
- E os losangos?
- Quais são retângulos?

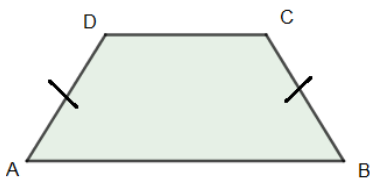
2) Em cada um dos trapézios a seguir, identifique os lados paralelos, a base menor e a base maior.



3) Identifique quais são trapézios retângulos, isósceles e escalenos.



4) A base média de um trapézio isósceles mede 13 cm, e a diferença entre as bases é 14 cm. Calcule o perímetro do trapézio, sabendo que um dos lados não paralelos mede 11 cm.



5) É possível existir um trapézio retângulo que seja também isósceles?

Referência:

LOPES, Célia. Matemática: ponto de conexão, 8º ano. 2. ed. Curitiba: Base Editorial, 2015.